

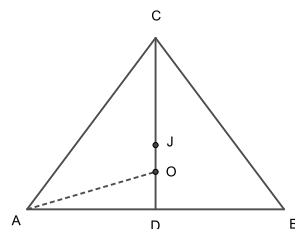


Задача 1. Дадена е геометрична прогресия $\div a_1, a_2, \dots, a_{2019}$, за която $a_1 \cdot a_{2019} = 2019$. Да се намери частното от сумата на членовете на прогресията и сумата от реципрочните им стойности.

Решение: Нека геометричната прогресия $\div a_1, a_2, \dots$ има частно q , тогава редицата $\frac{1}{a_1}, \frac{1}{a_2}, \dots$ също е геометрична прогресия, но с частно $\frac{1}{q}$. Сега от формулата за сума на геометрична прогресия имаме $S_{2019} = a_1 + a_2 + \dots + a_{2019} = a_1(1 + q + q^2 + \dots + q^{2018}) = a_1 \frac{1 - q^{2019}}{1 - q}$, $\tilde{S}_{2019} = \frac{1}{a_1} + \frac{1}{a_2} + \dots + \frac{1}{a_{2019}} = \frac{1}{a_1} \left(1 + \frac{1}{q} + \frac{1}{q^2} + \dots + \frac{1}{q^{2018}}\right) = \frac{1}{a_1} \cdot \frac{1 - \frac{1}{q^{2019}}}{1 - \frac{1}{q}}$. Така за частното $\frac{S_{2019}}{\tilde{S}_{2019}}$ получаваме $\frac{S_{2019}}{\tilde{S}_{2019}} = a_1^2 q^{2018} = a_1 \cdot a_{2019} = 2019$.

Задача 2. Даден е триъгълник ABC , за който $AC = BC = 5$ и $AB = 6$. Да се намерят радиусите r и R съответно на вписаната в триъгълника и на описаната около него окръжности, както и разстоянието между центровете им.

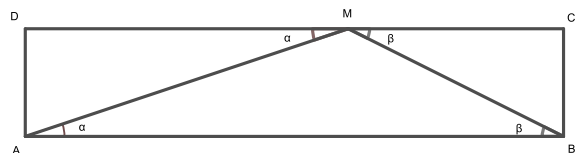
Решение: Нека D е средата на AB , тогава CD е медиана, височина и ъглополовяща в триъгълника ABC . Сега от теоремата на Питагор за триъгълника ADC получаваме $h = CD = \sqrt{5^2 - 3^2} = 4$. Така от формулите $p = \frac{AB + BC + CA}{2} = 8$ и $S_{ABC} = \frac{AB \cdot h}{2} = 12 = p \cdot r$ имаме $r = \frac{3}{2}$. Нека точките J и O са съответно центровете на вписаната и описаната за триъгълника ABC окръжности. За правоъгълния триъгълник ADO имаме $AD = 3$, $AO = R$, $DO = CD - CO = h - R$ и $R^2 = 3^2 + (4 - R)^2$ или $R = \frac{25}{8}$. Така за отсечката OJ имаме $OJ = DJ - DO = r - (h - R) = r + R - h = \frac{5}{8}$. (За намиране на R може да се използва и формулата $S = \frac{abc}{4R}$.)



Задача 3. Да се реши уравнението $\sqrt{x^2 + 5x} - \sqrt{x^2 + 2x - 15} = 3$.

Решение: Записваме ирационалното уравнение във вида $\sqrt{x^2 + 5x} = \sqrt{x^2 + 2x - 15} + 3$.
I. След повдигане на квадрат получаваме $2\sqrt{x^2 + 2x - 15} = x + 2$, откъдето след повторно повдигане на втора степен достигаме до $3x^2 + 4x - 64 = 0$ или $x_1 = 4$, $x_2 = -\frac{16}{3}$. Проверката показва, че само $x = 4$ е решение на задачата.
II. Даденото уравнение има смисъл при $x \in \Omega \equiv (-\infty, -5] \cup [3, \infty)$. Понеже двете страни на уравнението $\sqrt{x^2 + 5x} = \sqrt{x^2 + 2x - 15} + 3$ са неотрицателни при $x \in \Omega$, то след повдигането им на втора степен достигаме до еквивалентното му уравнение $2\sqrt{x^2 + 2x - 15} = x + 2$. Двете страни на $2\sqrt{x^2 + 2x - 15} = x + 2$ са неотрицателни при $x \in \Omega_1 \equiv \Omega \cap \{x \geq -2\} \equiv [3, \infty]$ и след повдигане на квадрат получаваме квадратното уравнение $3x^2 + 4x - 64 = 0$ (с корени $x_1 = 4$, $x_2 = -\frac{16}{3}$), което е еквивалентно на даденото ирационално уравнение. Тъй като $x_1 \in \Omega_1$, а $x_2 \notin \Omega_1$, то само $x = 4$ е решение на задачата.

Задача 4. Даден е правоъгълник $ABCD$ със страна $AB = 10$. Върху страната CD е избрана точка M , така че $S_{BCM} = 4$, $\sphericalangle BAM = \alpha$, $\sphericalangle ABM = \beta$ и $\text{tg } \alpha : \text{tg } \beta = 2 : 3$. Да се намерят лицето S на правоъгълника и радиусът R на описаната около триъгълника ABM окръжност.



Решение: В правоъгълните триъгълници ADM и BCM имаме $\sphericalangle AMD = \sphericalangle BAM = \alpha$,

$\sphericalangle BMC = \sphericalangle ABM = \beta$, $\operatorname{tg} \alpha = \frac{AD}{DM}$ и $\operatorname{tg} \beta = \frac{BC}{CM}$. Така от $\operatorname{tg} \alpha : \operatorname{tg} \beta = 2 : 3$ получаваме $\frac{CM}{MD} = \frac{2}{3}$. Сега, отчитайки $CD = CM + MD = 10$ и $S_{BCM} = 4$ достигаем до $CM = 4$, $MD = 6$, $BC = 2$. Така за лицето S на правоъгълника имаме $S = AB \cdot BC = 20$, освен това $\operatorname{tg} \alpha = \frac{1}{3}$ и $\operatorname{tg} \beta = \frac{1}{2}$. Ъглите α и β са остри и $\operatorname{tg}(\alpha + \beta) = \frac{\operatorname{tg} \alpha + \operatorname{tg} \beta}{1 - \operatorname{tg} \alpha \operatorname{tg} \beta} = 1$, откъдето последователно получаваме $\alpha + \beta = 45^\circ$ и $\sphericalangle AMB = 135^\circ$. Сега от синусовата теорема за триъгълника ABM пресмятаме $R = \frac{AB}{2 \sin 135^\circ} = 5\sqrt{2}$.

Задача 5. Да се реши неравенството $(9 - 4\sqrt{5})^{2 \sin x} + 1 \geq 18(\sqrt{5} - 2)^{2 \sin x}$.

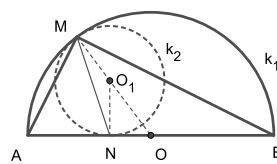
Решение: Въвеждаме ново неизвестно $t = (\sqrt{5} - 2)^{2 \sin x}$, тогава неравенството добива вида $t^2 - 18t + 1 \geq 0$ или $t \in (-\infty, 9 - 4\sqrt{5}] \cup [9 + 4\sqrt{5}, \infty)$. Понеже $9 - 4\sqrt{5} = (\sqrt{5} - 2)^2$ и $9 + 4\sqrt{5} = (\sqrt{5} - 2)^{-2}$, то за неизвестното x получаваме два случая $(\sqrt{5} - 2)^{2 \sin x} \leq (\sqrt{5} - 2)^2$ или $(\sqrt{5} - 2)^{2 \sin x} \geq (\sqrt{5} - 2)^{-2}$. От неравенството $0 < \sqrt{5} - 2 < 1$ следва, че функцията $(\sqrt{5} - 2)^y$ е намаляваща, освен това е изпълнено $-1 \leq \sin x \leq 1$. Така във всеки от случаите последователно имаме:

I. $(\sqrt{5} - 2)^{2 \sin x} \leq (\sqrt{5} - 2)^2$, $2 \sin x \geq 2$ или $\sin x = 1$, т.е. $x = (4k + 1)\frac{\pi}{2}$, където $k \in \mathbb{Z}$;

II. $(\sqrt{5} - 2)^{2 \sin x} \geq (\sqrt{5} - 2)^{-2}$, $2 \sin x \leq -2$ или $\sin x = -1$, т.е. $x = (4k - 1)\frac{\pi}{2}$, където $k \in \mathbb{Z}$.

След обединяване на двата случая окончателно получаваме $x = (2k + 1)\frac{\pi}{2}$, където $k \in \mathbb{Z}$.

Задача 6. Дадена е отсечка $AB = \sqrt{5}$. С диаметър AB е построена полуокръжност k_1 . Окръжност k_2 се допира до AB в точка N ($N \in AB$ и $AN : NB = 1 : 2$) и вътрешно до k_1 в точката M . Да се намерят дължините на отсечките AM и BM .



Решение: Нека точките O и O_1 са съответно центрoвете на k_1 и k_2 ,

тогава триъгълникът NOO_1 е правоъгълен с ъгли $\sphericalangle NOO_1 = \alpha$ и $\sphericalangle NO_1O = \beta$.

I. В равнобедрените триъгълници MNO_1 и BMO имаме $\sphericalangle NMO_1 = \frac{\beta}{2}$ и $\sphericalangle OMB = \frac{\alpha}{2}$, т.е.

$\sphericalangle NMB = \frac{\alpha}{2} + \frac{\beta}{2} = 45^\circ$ или MN е ъглополовяща в триъгълника ABM . От свойството на ъглополовящата и питагоровата теорема за триъгълника ABM имаме $\frac{MA}{MB} = \frac{AN}{NB} = \frac{1}{2}$, $AM^2 +$

$BM^2 = AB^2$, откъдето окончателно получаваме $AM = 1$ и $BM = 2$.

II. От условията $AB = \sqrt{5}$ и $AN : NB = 1 : 2$ имаме $AN = \frac{\sqrt{5}}{3}$, $AO = OM = \frac{\sqrt{5}}{2}$ и $NO = \frac{\sqrt{5}}{6}$.

Нека означим с r радиусът на k_2 , тогава за триъгълника NOO_1 имаме $O_1N = r$, $NO = \frac{\sqrt{5}}{6}$

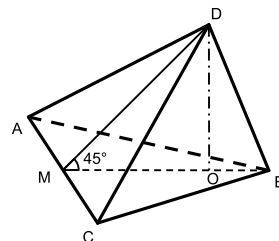
и $OO_1 = \frac{\sqrt{5}}{2} - r$, а след прилагане на теоремата на Питагор достигаем до $r^2 + \left(\frac{\sqrt{5}}{6}\right)^2 =$

$\left(\frac{\sqrt{5}}{2} - r\right)^2$ или $r = \frac{2\sqrt{5}}{9}$. Сега от триъгълника NOO_1 получаваме $\cos \alpha = \frac{NO}{OO_1} = \frac{3}{5}$. От

косинусовата теорема за триъгълника AMO имаме $AM^2 = 2\left(\frac{\sqrt{5}}{2}\right)^2 - 2\left(\frac{\sqrt{5}}{2}\right)^2 \cos \alpha = 1$, т.е.

$AM = 1$, а от питагоровата теорема за триъгълника ABM намираме $BM = 2$.

Задача 7. Стените ACB и ACD на триъгълната пирамида $ABCD$ сключват помежду си ъгъл 45° . Да се намери обемът на пирамидата, ако $AC = 14$, $AB = AD = 15$ и $CB = CD = 13$.



Решение: От хероновата формула за лицето на триъгълника ABC имаме $S_{ABC} = \sqrt{p(p-a)(p-b)(p-c)} = 84$, където $p = \frac{a+b+c}{2} = 21$, $BC = a = 13$, $AC = b = 14$ и $AB = c = 15$. Понеже триъгълниците ACB и ACD са еднакви, то ъгълът $\sphericalangle BMD$ е линеен на двустенния ъгъл между стените ACB и ACD , където точката $M \in AC$ е такава, че $BM \perp AC$, $DM \perp AC$ и $BM = DM = 12 = \frac{2S_{ABC}}{AC}$. Имаме $\sphericalangle(ACB, ACD) = \sphericalangle BMD = 45^\circ$ и триъгълникът $\triangle BDM$ е равнобедрен. Нека точка D се проектира върху равнината ACB в точка O ($DO \perp (ACB)$). Така телесната височина DO лежи в равнината (MBD) и $DO \perp BM$, т.е. DO е катет в равнобедрения правоъгълен триъгълник $\triangle DMO$ с хипотенуза $DM = 12$ или $DO = 6\sqrt{2}$. Сега за обема получаваме $V_{ABCD} = \frac{1}{3} \cdot S_{ABC} \cdot DO = \frac{1}{3} \cdot 84 \cdot 6\sqrt{2} = 168\sqrt{2}$.

Задача 8. Даден е квадратният тричлен $f(x) = 8a^2x^2 + 8ax - a + 1$, където a е реален параметър. Да се намери a , при условие че уравнението $f(x) = 0$ има два различни реални корена α и β , за които $5\alpha - 3\beta = 1$.

Решение: Ако $a = 0$, то уравнението $f(x) = 0$ няма корени. При $a \neq 0$ от формулите на Виет имаме, че

$$\left\{ \begin{array}{l} \alpha + \beta = -\frac{1}{a} \\ \alpha\beta = \frac{1-a}{8a^2} \end{array} \right. \text{ точно когато } \alpha \text{ и } \beta \text{ са корени на } f(x) = 0. \text{ Добавяме условието}$$

$5\alpha - 3\beta = 1$ и получаваме

$$\left\{ \begin{array}{l} \alpha + \beta = -\frac{1}{a} \\ \alpha\beta = \frac{1-a}{8a^2} \\ 5\alpha - 3\beta = 1 \end{array} \right. . \text{ От първото и третото уравнение изразяваме } \alpha \text{ и}$$

β чрез a и ги заместваме във второто. Последователно имаме

$$\left\{ \begin{array}{l} \alpha + \beta = -\frac{1}{a} \\ 5\alpha - 3\beta = 1 \end{array} \right. , \left\{ \begin{array}{l} \alpha = \frac{a-3}{8a} \\ \beta = -\frac{a+5}{8a} \end{array} \right. ,$$

$\frac{a-3}{8a} \cdot \frac{-a-5}{8a} = \frac{1-a}{8a^2}$, $(a-3)(-a-5) = 8(1-a)$, $a^2 - 6a - 7 = 0$ или $a = -1$, $a = 7$. Така получаваме, че корените на $f(x) = 0$ удовлетворяват условието $5\alpha - 3\beta = 1$ точно когато

$$\left\{ \begin{array}{l} a = -1 \\ \alpha = \frac{a-3}{8a} = \frac{1}{2} \\ \beta = -\frac{a+5}{8a} = \frac{1}{2} \end{array} \right. \text{ или } \left\{ \begin{array}{l} a = 7 \\ \alpha = \frac{a-3}{8a} = \frac{1}{14} \\ \beta = -\frac{a+5}{8a} = -\frac{3}{14} \end{array} \right. .$$

Понеже при $a = -1$ имаме $\alpha = \beta = \frac{1}{2}$, то само $a = 7$ е решение на задачата.