



СОФИЙСКИ УНИВЕРСИТЕТ „СВ. КЛИМЕНТ ОХРИДСКИ“

ПИСМЕН КОНКУРСЕН ИЗПИТ ПО МАТЕМАТИКА I

21 юни 2014 г.

ТЕМА №1.

ПРИМЕРНИ РЕШЕНИЯ НА ЗАДАЧИТЕ

Задача 1. Да се реши неравенството $\frac{x-1}{x-2} + \frac{x-2}{x-1} \geq 2$.

Решение: Даденото дробно неравенство има смисъл при $x \neq 1$ и $x \neq 2$. Сега последователно имаме $\frac{x-1}{x-2} + \frac{x-2}{x-1} - 2 \geq 0$, $\frac{(x-1)^2 - 2(x-1)(x-2) + (x-2)^2}{(x-1)(x-2)} \geq 0$, $\frac{((x-1) - (x-2))^2}{(x-1)(x-2)} \geq 0$, $\frac{1}{(x-1)(x-2)} \geq 0$ или $(x-1)(x-2) > 0$. Така окончателно получаваме за решения на задачата числата $x \in (-\infty, 1) \cup (2, \infty)$.

Задача 2. Даден е правоъгълен триъгълник ABC с катети $BC = 12$ и $CA = 16$. Да се намери дължината на височината h_c към хипотенузата, както и дължините на радиусите R и r на описаната и на вписаната окръжности.

Решение: При стандартните означения за елементите на триъгълника ABC имаме $a = 12$, $b = 16$ и $\gamma = 90^\circ$. Сега от питагоровата теорема получаваме $c^2 = a^2 + b^2$, т.е. $c = \sqrt{12^2 + 16^2} = \sqrt{16(3^2 + 4^2)} = 20$. За лицето S на триъгълника е в сила $S = \frac{a b}{2} = \frac{c h_c}{2} = \frac{12 \cdot 16}{2} = 96$ или $h_c = \frac{a b}{c} = \frac{12 \cdot 16}{20} = \frac{48}{5}$, а за дължините на радиусите R и r имаме съответно $R = \frac{c}{2} = 10$ и $r = \frac{S}{p} = p - c = \frac{a + b - c}{2} = 4$, където $p = \frac{a + b + c}{2} = \frac{12 + 16 + 20}{2} = 24$.

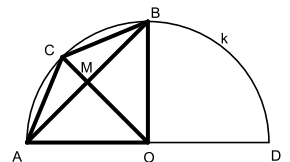
Задача 3. Да се реши уравнението $|2^x - 8| + |4 - 2^x| = 4$.

Решение: I. Показателната функция 2^x е растяща за всяко $x \in \mathbb{R}$, понеже основата ѝ е по-голяма от 1, т.е. неравенствата $2^x - 8 = 2^x - 2^3 > 0$ и $4 - 2^x = 2^2 - 2^x > 0$ са изпълнени съответно при $x > 3$ и при $x < 2$. Разглеждаме следните случаи: **1.** Ако $x \in (-\infty, 2)$, то $|2^x - 8| = 8 - 2^x$ и $|4 - 2^x| = 4 - 2^x$, а за уравнението имаме $8 - 2^x + 4 - 2^x = 4$ или $2^x = 4$, т.е. $x = 2$, което не е решение, понеже не лежи в разглеждания интервал; **2.** Ако $x \in [2, 3]$, то $|2^x - 8| = 8 - 2^x$ и $|4 - 2^x| = 2^x - 4$, а уравнението добива вида $8 - 2^x + 2^x - 4 = 4$ или $0 = 0$, т.е. всяко число от интервала $x \in [2, 3]$ е решение на даденото уравнение; **3.** Ако $x \in (3, \infty)$, то $|2^x - 8| = 2^x - 8$ и $|4 - 2^x| = 2^x - 4$, а за уравнението имаме $2^x - 8 + 2^x - 4 = 4$ или $2^x = 8$, т.е. $x = 3$, което не е решение, понеже не лежи в разглеждания интервал. Така окончателно получихме, че решенията на даденото уравнение са $x \in [2, 3]$.

II. Означаваме 2^x с y и достигаем до уравнението $|y - 8| + |4 - y| = 4$. Разглеждаме следните случаи: **1.** Ако $y \in (-\infty, 4)$, то $|y - 8| = 8 - y$ и $|4 - y| = 4 - y$, а за уравнението имаме $8 - y + 4 - y = 4$ или $y = 4$, което не лежи в разглеждания интервал и следователно не е решение; **2.** Ако $y \in [4, 8]$, то $|y - 8| = 8 - y$ и $|4 - y| = y - 4$, а уравнението добива вида $8 - y + y - 4 = 4$ или $0 = 0$, т.е. всяко число от интервала $y \in [4, 8]$ е решение на модулното уравнение за y ; **3.** Ако $y \in (8, \infty)$, то $|y - 8| = y - 8$ и $|4 - y| = y - 4$, а за уравнението имаме $y - 8 + y - 4 = 4$ или $y = 8$, което не лежи в разглеждания интервал и следователно не е решение. Така решения на уравнението $|y - 8| + |4 - y| = 4$ са числата $y \in [4, 8]$. Връщаме се към неизвестното x и получаваме неравенствата $4 = 2^2 \leq 2^x \leq 2^3 = 8$. Понеже функцията 2^x е растяща, то окончателно получаваме, че $x \in [2, 3]$.

Задача 4. Дадена е отсечка $AD = 20$ със среда точката O . С диаметър \widehat{AD} е построена полуокръжност k . Точките B и C лежат на k и са среди съответно на дъгите \widehat{AD} и \widehat{AB} . Да се намерят лицата на четириъгълника $AOBC$ и на триъгълника ABC .

Решение: От свойствата на централните ъгли имаме $\sphericalangle AOB = \widehat{AB} = \frac{\widehat{AD}}{2} = 90^\circ$, $\sphericalangle BOC = \widehat{BC} = \frac{\widehat{AD}}{4} = 45^\circ$ и $\sphericalangle AOC = \widehat{AC} = \frac{\widehat{AD}}{4} = 45^\circ$. Така $\triangle OAM \cong \triangle OBM$ по I признак, т.е. $OC \perp AB$. От $\triangle AOB$ получаваме $AB = \sqrt{2} OA = 10\sqrt{2}$. Сега $S_{AOBC} = \frac{AB \cdot OC}{2} = \frac{10\sqrt{2} \cdot 10}{2} = 50\sqrt{2}$,



$$S_{AOB} = \frac{OA \cdot OB}{2} = \frac{10 \cdot 10}{2} = 50 \text{ и } S_{ABC} = S_{AOBC} - S_{AOB} = 50(\sqrt{2} - 1).$$

Задача 5. Да се реши уравнението $(\sin x - \cos x)^2 = \frac{3}{2}$.

Решение: След повдигане на квадрат в лявата страна на уравнението получаваме $\sin^2 x - 2 \sin x \cos x + \cos^2 x = \frac{3}{2}$, а след прилагане на формулите $\sin^2 x + \cos^2 x = 1$ и $2 \sin x \cos x = \sin 2x$ достигаем до $\sin 2x = -\frac{1}{2}$, което е еквивалентно на $2x = -\frac{\pi}{6} + 2k\pi \cup 2x = \frac{7\pi}{6} + 2k\pi$ или $x = -\frac{\pi}{12} + k\pi \cup x = \frac{7\pi}{12} + k\pi$, където $k \in \mathbb{Z}$.

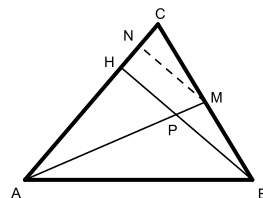
Задача 6. Образувани са всички възможни петцифрени числа с цифри от множеството $\{1, 2, 3\}$. По произволен начин е избрано едно от тях. Да се намери вероятността избраното число да се дели на 4.

Решение: На всяка от позициите на петцифреното число може да стои някоя от цифрите от множеството $\{1, 2, 3\}$, т.е. за всяка от петте позиции има по три възможности или общият брой на тези числа е $3 \cdot 3 \cdot 3 \cdot 3 \cdot 3 = 3^5 = 243$. От признака за деление на 4 (едно цяло число се дели на 4, точно когато числото, съставено от последните му две цифри се дели на 4) следва, че число от търсения вид ще се дели на 4, точно когато завършва на 12 или 32 (числото трябва да е четно, т.е. да завършва на 2, а 22 не се дели на 4). Броят на числата, завършващи на 12 е $3 \cdot 3 \cdot 3 = 3^3 = 27$, понеже за първите три позиции има по три възможности. Аналогично броят на числата, завършващи на 32 е също $3 \cdot 3 \cdot 3 = 3^3 = 27$ и получаваме, че броят на числата, делящи се на 4 е $2 \cdot 3^3 = 54$. Така за вероятността имаме:

$$P = \frac{\text{бр. благоприятни възможности}}{\text{бр. всички възможности}} = \frac{54}{243} = \frac{2 \cdot 3^3}{3^5} = \frac{2}{9}.$$

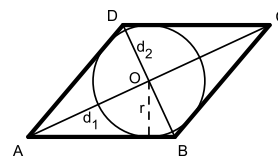
Задача 7. Даден е триъгълник ABC със страни $BC = 11$, $CA = 12$ и $AB = 13$. Височината BH и медианата AM се пресичат в точка P . Да се намерят отношенията $AH : HC$ и $AP : PM$.

Решение: Даденият триъгълник е остроъгълен, т.е. точката H е между A и C . Сега нека означим $AH = x$, $HC = y$ и $BH = h$. Тогава $x + y = 12$, а от триъгълниците ABH и CBH имаме още $x^2 + h^2 = 13^2$ и $y^2 + h^2 = 11^2$. След почленно изваждане на последните две равенства достигаем до $x^2 - y^2 = 13^2 - 11^2$ или $(x - y)(x + y) = 2 \cdot 24$. Сега от $x + y = 12$ получаваме $x - y = 4$, т.е. $x = 8$, $y = 4$ или $AH : HC = x : y = 2 : 1$. През точката M построяваме $MN \parallel BH$, тогава в $\triangle BHC$ MN се явява средна отсечка, т.е. $CN = NH = 2$. Сега от теоремата на Талес имаме $AP : PM = AH : HN = 8 : 2 = 4 : 1$.



Задача 8. Даден е ромб с лице $S = m$. Сумата от диагоналите му $d_1 + d_2$ е равна на n . Да се докаже, че квадратният тричлен $x^2 + nx + m = 0$ има два различни реални корена и да се изрази лицето σ на вписания в ромба кръг чрез m и n .

Решение: Нека означим $AB = a$, $AC = d_1$ и $BD = d_2$. Понеже диагоналите на ромба са перпендикулярни, то за неговото лице имаме $S = m = \frac{d_1 d_2}{2}$ или $d_1 d_2 = 2m$. Квадратният тричлен $x^2 + nx + m = 0$ има два различни реални корена, точно когато неговата дискриминанта $D = n^2 - 4m = (d_1 + d_2)^2 - 2d_1 d_2 = d_1^2 + d_2^2$ е строго положителна, което е изпълнено, понеже съществува ромб с диагонали d_1 и d_2 , т.е. числата d_1 и d_2 не са едновременно равни на нула. За пресмятане на търсеното лице имаме $\sigma = \pi r^2$, където r е радиусът на вписаната в ромба окръжност. Формулата за лице на описан четириъгълник ни дава $S = m = p r$, където $p = 2a$ е полупериметърът на ромба. Така получаваме връзката $r = \frac{m}{2a}$ или $r^2 = \frac{m^2}{4a^2}$. Сега от



триъгълника ABO имаме $\left(\frac{d_1}{2}\right)^2 + \left(\frac{d_2}{2}\right)^2 = a^2$ или $a^2 = \frac{D}{4} = \frac{n^2 - 4m}{4}$. Така окончателно получаваме $r^2 = \frac{m^2}{n^2 - 4m}$ и $\sigma = \frac{\pi m^2}{n^2 - 4m}$.