

СОФИЙСКИ УНИВЕРСИТЕТ „СВ. КЛИМЕНТ ОХРИДСКИ“
ПИСМЕН КОНКУРСЕН ИЗПИТ ПО МАТЕМАТИКА I



20 юни 2015 г.

ТЕМА № 2

РЕШЕНИЯ НА ЗАДАЧИТЕ

Задача 1. Пресметнете израза:

$$A = \left(\log_{\sqrt[5]{5}} \sqrt{5}\right)^2 - \log_{\sqrt[3]{5}} 5\sqrt{5} + \log_{\sqrt{3}+1} (4 + 2\sqrt{3}).$$

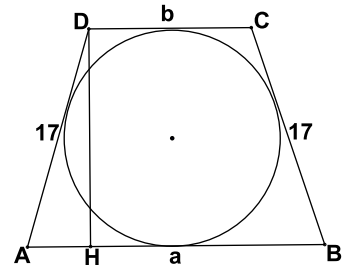
Решение: Записваме израза във вида

$$A = \left(\log_{5^{\frac{1}{5}}} 5^{\frac{1}{2}}\right)^2 - \log_{5^{\frac{1}{3}}} 5^{\frac{3}{2}} + \log_{\sqrt{3}+1} (\sqrt{3} + 1)^2.$$

Тогава $A = \left(\frac{5}{2}\right)^2 - \frac{9}{2} + 2$, следователно $A = \frac{15}{4}$.

Задача 2. Около окръжност с диаметър 15 е описан равнобедрен трапец с дължина на бедрото 17. Намерете дължините на основите на трапеца.

Решение: От свойството на описан четириъгълник имаме: $AB + CD = AD + BC$, т.е. $AB + CD = 2 \cdot 17 = 34$. Височината DH е равна по дължина на диаметъра на вписаната окръжност, или $DH = 15$. Тъй като трапецът е равнобедрен, то $AH = \frac{AB - CD}{2}$. По теоремата на Питагор за $\triangle AHD$, $AH = \sqrt{17^2 - 15^2} = \sqrt{32} = 4\sqrt{2}$, $AH = 8$. Получихме, че $AB + CD = 34$, и $AB - CD = 16$, следователно $AB = 25$ и $CD = 9$.



Задача 3. Да се реши системата:

$$\begin{cases} xy + x + y = 19 \\ x^2y + xy^2 = 84 \end{cases}.$$

Решение: Записваме системата във вида: $\begin{cases} xy + (x + y) = 19 \\ xy(x + y) = 84 \end{cases}$. Ако означим $x + y = a$, $xy = b$ имаме $\begin{cases} a + b = 19 \\ ab = 84 \end{cases}$. Това са формулите на Виет за уравнение с корени 12 и 7.

Първи случай: $x + y = 7$, $xy = 12$, т.е. $(x_1, y_1) = (3, 4)$ и $(x_2, y_2) = (4, 3)$.

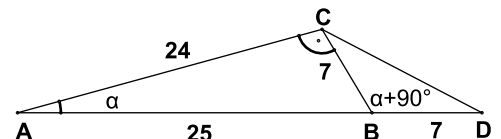
Втори случай: $x + y = 12$, $xy = 7$, т.е. x и y са корените на уравнението $t^2 - 12t + 7 = 0$, $t_{1,2} = 6 \pm \sqrt{29}$. Тогава $(x_3, y_3) = (6 + \sqrt{29}, 6 - \sqrt{29})$ и $(x_4, y_4) = (6 - \sqrt{29}, 6 + \sqrt{29})$.

Задача 4. Върху продължението на хипотенузата AB на правоъгълен триъгълник ABC е взета точка D , така че $BD = BC$ и B е между A и D . Намерете дължината на CD , ако $AC = 24$ и $BC = 7$.

Решение: От Питагорова теорема за триъгълник ABC намираме:

$$AB = \sqrt{24^2 + 7^2} = \sqrt{576 + 49} = \sqrt{625} = 25.$$

Означаваме $\sphericalangle BAC$ с α . Тогава $\sphericalangle DBC$, като външен за $\triangle ABC$, е равен на $90^\circ + \alpha$. От $\triangle BDC$, по косинусова теорема, имаме:



$$CD^2 = BD^2 + CB^2 - 2BD \cdot CD \cdot \cos(\sphericalangle DBC) \Rightarrow CD^2 = 2.7^2 - 2.7^2 \cdot \cos(90^\circ + \alpha) \Rightarrow CD^2 = 98 \cdot (1 + \sin \alpha).$$

От $\triangle ABC$ имаме $\sin \alpha = \frac{7}{25}$ и тогава $CD^2 = 98 \cdot (1 + \frac{7}{25}) = \frac{98.32}{25} = \frac{64.49}{25} \Rightarrow CD = \frac{8.7}{5} = \frac{56}{5}$.

Задача 5. Разполагаме с три разноцветни зарчета. Каква е вероятността сборът от точките върху трите зарчета при произволно хвърляне да е 7?

Решение: Числото 7 се представя като сума на три естествени числа (точките върху всяко зарче) по следните начини: $7=1+2+4$, $7=1+1+5$, $7=3+3+1$ или $7=2+2+3$. Понеже зарчетата са различни (различни цветове), то броят на благоприятните изходи в първия случай е $3! = 6$ (шест), във втория е 3 (три), в третия е 3 (три) и в четвъртия е 3 (три). Тогава броят на всички благоприятни изходи е $B = 6+3+3+3 = 15$. Броят на всички възможни изходи при произволно хвърляне на трите зарчета е $S = 6.6.6$. Тогава вероятността P , сборът от точките върху трите зарчета при произволно хвърляне да е 7, е:

$$P = (\text{броя на благоприятните изходи}) : (\text{броя на всички възможни изходи}).$$

Следователно, търсената вероятност е $P = \frac{B}{S} = \frac{15}{6.6.6} = \frac{5}{72}$.

Задача 6. Нека a и b са положителни числа, такива че a^2 е средно аритметично на b^2 и $(a+b)^2$. Да се намери $\frac{a}{b}$.

Решение: По условие $a > 0$, $b > 0$ и $2a^2 = b^2 + (a+b)^2$, или $2a^2 = 2b^2 + a^2 + 2ab$, $a^2 - 2ab - 2b^2 = 0$. Разделяме полученото хомогенно уравнение с $b^2 > 0$ и получаваме квадратното спрямо $\frac{a}{b}$ уравнение $(\frac{a}{b})^2 - 2(\frac{a}{b}) - 2 = 0$. Корените му са $(\frac{a}{b})_{1,2} = 1 \pm \sqrt{3}$. Но по условие $\frac{a}{b} > 0$ и следователно единственото решение на задачата е $\frac{a}{b} = 1 + \sqrt{3}$.

Задача 7. Отсечките, съединяващи петите на височините в остроъгълен триъгълник, са 8, 15 и 17. Намерете радиуса на описаната около дадения триъгълник окръжност.

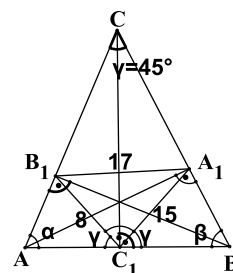
Решение: Нека $\sphericalangle BAC = \alpha$, $\sphericalangle ABC = \beta$, $\sphericalangle BCA = \gamma$ и $A_1B_1 = 17$, $A_1C_1 = 15$ и $B_1C_1 = 8$. Ъглите на $\triangle A_1B_1C_1$ са $\sphericalangle C_1A_1B_1 = 180^\circ - 2\alpha$, $\sphericalangle A_1B_1C_1 = 180^\circ - 2\beta$ и $\sphericalangle A_1C_1B_1 = 180^\circ - 2\gamma$, т.е. чрез тях можем да определим ъглите на $\triangle ABC$. Например:

$$A_1B_1^2 = A_1C_1^2 + B_1C_1^2 - 2 \cdot A_1C_1 \cdot B_1C_1 \cdot \cos(180^\circ - 2\gamma) \text{ или}$$

$$17^2 = 15^2 + 8^2 + 2 \cdot 15 \cdot 8 \cdot \cos 2\gamma, \text{ откъдето } \cos 2\gamma = 0, \text{ т.е. } \gamma = 45^\circ.$$

Освен това, $\triangle A_1B_1C_1$ е подобен на $\triangle ABC$ с коефициент на подобие $\cos \gamma$, т.е. $\cos 45^\circ$. Намираме последователно

$$\frac{A_1B_1}{AB} = \cos 45^\circ \Rightarrow AB = \frac{A_1B_1}{\cos 45^\circ}.$$



Използваме синусова теорема за $\triangle ABC$ за намиране на радиуса на описаната окръжност, а именно:

$$\frac{AB}{\sin 45^\circ} = 2R, \text{ или } R = \frac{AB}{2 \sin 45^\circ} = \frac{A_1B_1}{2 \sin 45^\circ \cos 45^\circ} = \frac{A_1B_1}{\sin 90^\circ}, R = A_1B_1, \text{ т.е. } R = 17.$$

Задача 8. Уравнението $x^2 + 2ax + 4a = 0$ има реалните корени x_1 и x_2 . Намерете най-голямата стойност на израза $S = |x_1| + |x_2|$, при условие, че параметърът a принадлежи на множеството от решения на неравенството $|a| \leq 2$.

Решение: Корените x_1 и x_2 на уравнението $x^2 + 2ax + 4a = 0$ са реални, ако дискриминантата $D = 4a^2 - 16a$ е неотрицателна. Условието е изпълнено за решенията на неравенството $a^2 - 4a \geq 0$, които са множеството $(-\infty, 0] \cup [4, +\infty)$.

Тъй като $S = |x_1| + |x_2|$ неотрицателна величина, то S и S^2 достигат своите най-големи стойности съответно за една и съща стойност на a . Затова разглеждаме израза $S^2 = |x_1|^2 + |x_2|^2 + 2|x_1 \cdot x_2|$. Прилагайки формулите на Виет, получаваме:

$$S^2 = x_1^2 + x_2^2 + 2|4a| = (x_1 + x_2)^2 - 2x_1 \cdot x_2 + 8|a| = 4a^2 - 8a + 8|a| = 4(a^2 - 2a + 2|a|).$$

Решенията на неравенството $|a| \leq 2$ е интервалът $[-2, 2]$. Така получаваме, че най-голямата стойност на S^2 , респективно на S , се търси в множеството $[-2, 2] \cap \{(-\infty, 0] \cup [4, +\infty)\}$, т.е. в интервала $[-2, 0]$. Стойностите на a в този интервал са отрицателни (с изключение на 0) и $|a| = -a$, следователно $S^2 = 4(a^2 - 2a - 2a) = 4(a^2 - 4a)$.

Квадратната функция $f(a) = a^2 - 4a$ е с положителен коефициент пред втората степен, абсцисата на върха на параболата ѝ е 2 и в интервала $[-2, 0]$ тя е строго намаляваща. Следователно, най-голямата стойност на S се приема при $a = -2$ и тя е $S = \sqrt{4[(-2)^2 - 4(-2)]} = \sqrt{4(4 + 8)} = 4\sqrt{3}$.